

IPET 132 "PARAVACHASCA" TRABAJO PRACTICO N* 3, MAYO 2021

ASIGNATURA: GEOGRAFIA

CURSO: 5* A Y B P

ROFESORES: RAMOS, Patricia y Buhler, Diego

COMUNICACIÓN: WhatsApp BÜHLER DIEGO (3547632721)-RAMOS PATRICIA (3547623943).

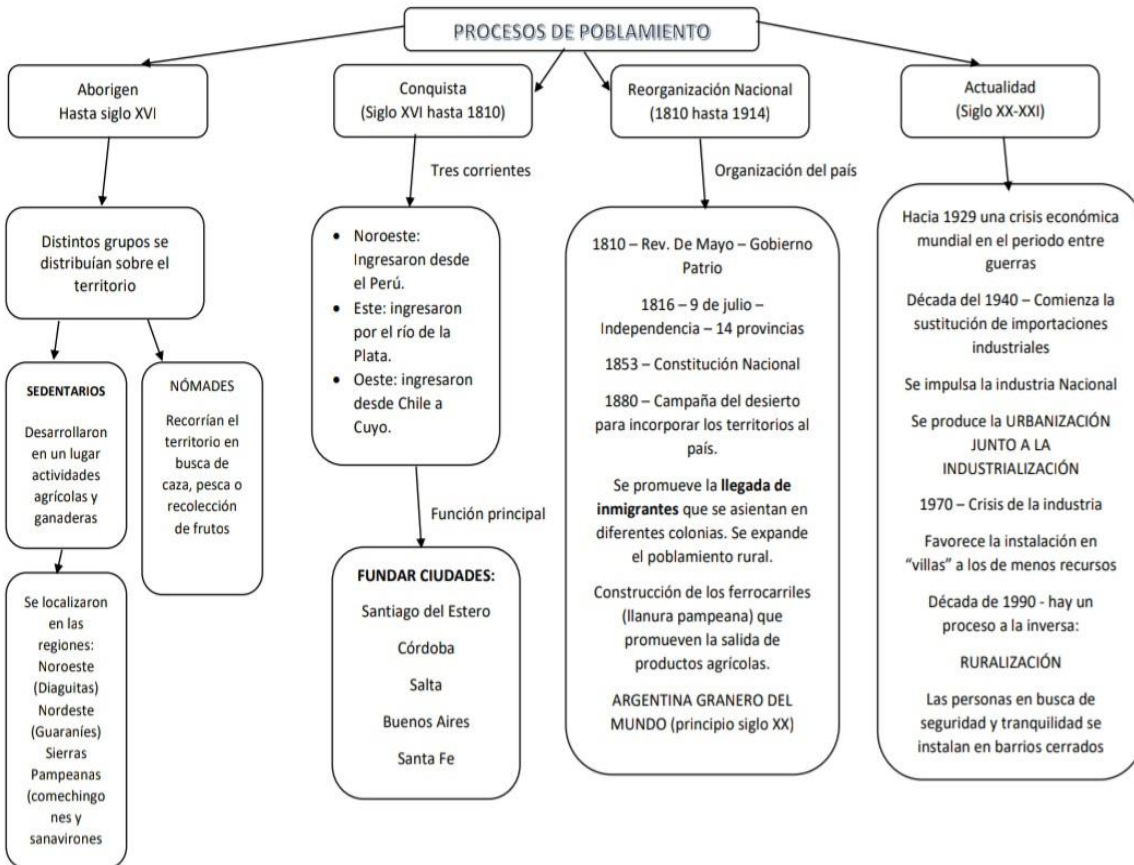
OBJETIVOS:

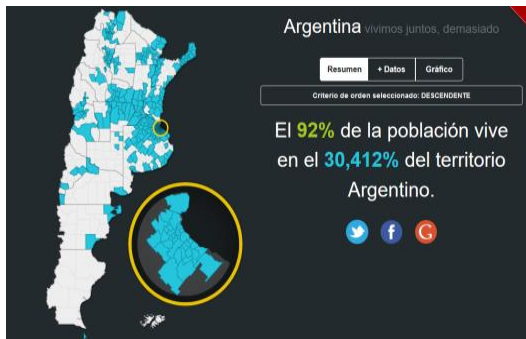
* Desarrollar el pensamiento crítico y la lecto comprensión a través del estudio del proceso de poblamiento del territorio nacional y su incidencia en las características de la población actual.

CRITERIOS DE EVALUACION:

- * Correcta interpretación de consignas
- * Claridad en las ideas expresadas
- * Juicio crítico e interpretativo de la temática

PROCESOS DE POBLAMIENTO DE ARGENTINA -





ACTIVIDAD A. Observa las imágenes precedentes. Puedes incluso mirar imágenes de población de distintos lugares de Argentina buscando en Internet. Elabora un texto de 20 a 30 renglones donde puedas destacar las principales características de la población argentina **que las imágenes te sugieren** (Contrastes, semejanzas, distribución, aspectos positivos y negativos, o lo que tu juicio propio quiera analizar).

ACTIVIDAD B

Como habrás visto, tienes un esquema conceptual con algunas de las características que dieron origen al poblamiento de nuestro país. Si vuelves a leer con detenimiento el mismo, si bien las fotos son actuales, puedes relacionar a cada una de ellas con un momento del poblamiento.

1. ¿Con cuál relacionas cada una? Explica brevemente por qué piensas así.

CRECIMIENTO Y EVOLUCIÓN DE LA POBLACIÓN ARGENTINA

Hemos recorrido un poco la historia y la actualidad de la población en imágenes. Vamos a comenzar a analizar cuáles son las causas del crecimiento y distribución de la población argentina. Para ello es muy común, al estudiar la población usar los datos obtenidos de las estadísticas. Debes recordar que para ello utilizamos los **Indicadores demográficos**

El cambio poblacional, depende de la evolución de la natalidad y la mortalidad, pero también de los procesos migratorios. El **crecimiento total** se obtiene de:

(Natalidad – Mortalidad)	+	(Inmigración – Emigración)
Crecimiento natural o vegetativo	+	Crecimiento o saldo migratorio

ACTIVIDAD A

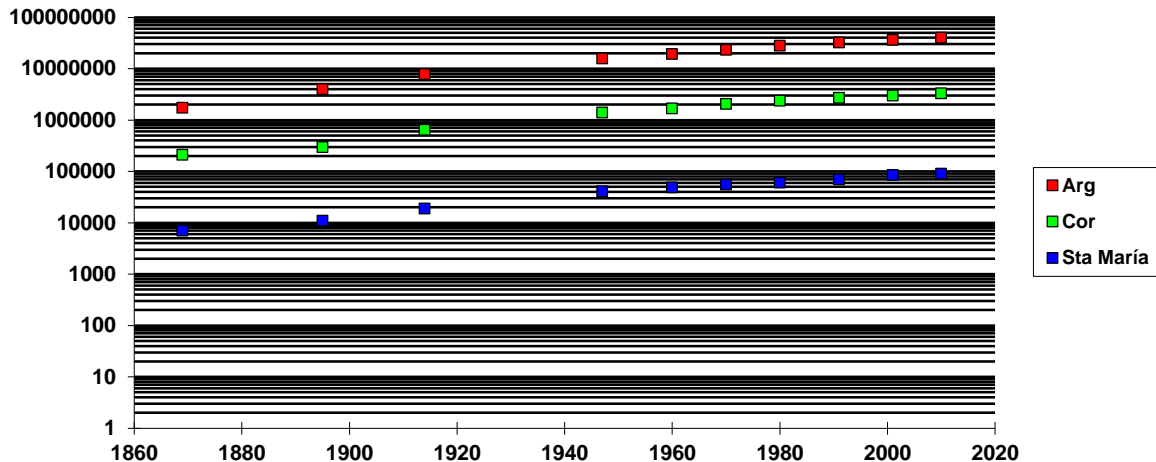
1. Averiguar qué es el INDEC y cuáles son sus funciones (Sintetiza en 5 renglones).
2. Explica qué es un censo.
3. Busca en tu carpeta de cuarto o averigua los siguientes conceptos: tasa de natalidad, tasa de mortalidad, tasa de mortalidad infantil, esperanza de vida, índice de masculinidad, fecundidad, índice de alfabetización.

Evolución de la población Argentina

Para conocer cómo evolucionó el crecimiento de la población de nuestro país, puedes tener en cuenta los números absolutos de los habitantes en cada censo nacional o también el crecimiento intercensal, es decir, el crecimiento entre periodos que van de un censo a otro (Por ejemplo, entre 1869-1895, si miras en la tabla es de 3,1%). Cuanto mayor es el número en porcentajes, mayor es el crecimiento poblacional entre los censos.

A continuación, tendrás los datos del crecimiento absoluto de la población (números) entre los diferentes censos nacionales, datos del crecimiento intercensal (%) y un gráfico de crecimiento.

Pobl. (cantidad hab)	Argentina	Córdoba	Dpto Santa María	Crecimiento Intercensal (%)
Censos				
1869	1740000	210000	7000	
1895	4000000	300000	11000	3,1
1914	7800000	650000	19000	3,6
1947	15900000	1400000	41000	2,0
1960	19430000	1700000	49000	1,7
1970	23400000	2060000	56000	1,5
1980	28000000	2400000	61000	1,8
1991	32400000	2710000	70000	1,5
2001	36200000	3000000	86000	1,1
2010	40200000	3300000	98000	1,0



ACTIVIDAD B

1. Marcar las líneas que corresponden a Argentina, Córdoba y Santa María, con un color cada una.
2. Teniendo en cuenta los **datos de crecimiento intercensal** ¿Cuál es el **periodo de mayor** crecimiento de la población de nuestro país? Investiga (en historia) y fundamenta en no más de 5 renglones cuáles son las causas de ello.
3. ¿Cuál es el **periodo de menor crecimiento intercensal** de la población de nuestro país? Fundamenta en no más de 5 renglones cuáles son las causas de ello.
4. Si comparamos las tres líneas de la evolución de la población: ¿A qué conclusiones puedes llegar?

Cuadro 1. Población estimada al 1 de julio de cada año calendario por sexo. Total del país. Años 2010-2040

Año	Población		
	Total	Varones	Mujeres
2010	40.788.453	19.940.704	20.847.749
2011	41.261.490	20.180.791	21.080.699
2012	41.733.271	20.420.391	21.312.880
2013	42.202.935	20.659.037	21.543.898
2014	42.669.500	20.896.203	21.773.297
2015	43.131.966	21.131.346	22.000.620
2016	43.590.368	21.364.470	22.225.898
2017	44.044.811	21.595.623	22.449.188
2018	44.494.502	21.824.372	22.670.130
2019	44.938.712	22.050.332	22.888.380
2020	45.376.763	22.273.132	23.103.631
2021	45.808.747	22.492.818	23.315.929
2022	46.234.830	22.709.478	23.525.352
2023	46.654.581	22.922.881	23.731.700
2024	47.067.641	23.132.846	23.934.795
2025	47.473.760	23.339.242	24.134.518
2026	47.873.268	23.542.251	24.331.017
2027	48.266.524	23.742.075	24.524.449
2028	48.653.385	23.938.645	24.714.740
2029	49.033.678	24.131.883	24.901.795
2030	49.407.265	24.321.729	25.085.536
2031	49.774.276	24.508.267	25.266.009
2032	50.134.861	24.691.585	25.443.276
2033	50.488.930	24.871.645	25.617.285
2034	50.836.373	25.048.401	25.787.972
2035	51.177.087	25.221.806	25.955.281
2036	51.511.042	25.391.854	26.119.188
2037	51.838.245	25.558.552	26.279.693
2038	52.158.610	25.721.856	26.436.754
2039	52.472.054	25.881.722	26.590.332
2040	52.778.477	26.038.093	26.740.384

5. En función de la siguiente tabla de datos, que muestra la cantidad de población estimada (total y por sexo) hasta el año 2040, observar y anotar la siguiente información:

- Cantidad de varones al año 2025
- Cantidad de mujeres al año 2027
- Cantidad de varones y mujeres al año 2035
- Total de población estimada al año 2040

6. Teniendo en cuenta lo que observaste de los datos ¿Crees que el crecimiento intercensal seguirá aumentando o disminuyendo a lo largo del tiempo?

7. Fundamenta por qué crees que evolucionará de esa manera (Causas por las cuales dijiste que aumentará o disminuirá en el tiempo)

MOVILIDAD DE LA POBLACIÓN ARGENTINA – MIGRACIONES

El Camino de los Inmigrantes

¿Cómo se combinaron los factores estructurales, es decir, las condiciones de los países de origen y de destino con las estrategias de los propios migrantes, es decir cómo decidían emigrar en función de sus proyectos, de la información de la cual disponían y de sus relaciones sociales primarias: amigos, parientes, paisanos? En primer término, las circunstancias internacionales durante ese período hicieron posible la emigración de europeos hacia América. Los rasgos particulares que tuvo la "gran emigración" fueron en cierta medida la continuación de una movilidad geográfica anterior, dentro de Europa, pero que presentó características que la convirtieron en un fenómeno diferente, por la masividad del fenómeno, y por la preeminencia de destinos más allá de los océanos.

A continuación, las condiciones en la Argentina a partir de 1880: la pacificación política, el crecimiento de la economía, y las transformaciones de la estructura institucional del país impulsadas por el gobierno de Roca. Por último, si bien existió, desde mediados del siglo XIX, un contexto internacional y nacional que favoreció el proceso migratorio de masas, los inmigrantes no respondieron mecánicamente a los estímulos externos; tomaron la decisión de expatriarse después de evaluar la información de que disponían, eligiendo determinados destinos en vez de otros, y resolviendo cuáles miembros del grupo familiar emigrarían y cuáles permanecerían en el país de origen.

Desde esta perspectiva, fueron diversas las vías por las cuales los emigrantes potenciales obtenían noticias de las posibilidades que ofrecían los eventuales países de destino, y opciones concretas a partir de las cuales tomar sus decisiones. Por un lado, la información proporcionada por agentes del gobierno, de las compañías de colonización o de las compañías de navegación, y de aquella que los emigrantes obtenían a través de sus relaciones con parientes, amigos y vecinos. Por otro, de las propias redes utilizadas por los migrantes en función de objetivos prácticos como la obtención de trabajo y alojamiento.

Asimismo, las motivaciones que empujaron a abandonar la patria, incluso en el cuadro predominante de la pobreza y de la ausencia de ofertas satisfactorias, podían ser varias: el deseo de mejorar las propias experiencias profesionales; la búsqueda de ahorros para impedir la proletarización del grupo familiar en el pueblo de origen; o el malestar por una marginalidad social o política sin perspectiva de adecuadas salidas locales, en comparación con ocasiones más apetecibles en otros lugares y demasiado a menudo largamente ensalzadas.

Actividad C

Lee el texto: El camino del inmigrante y responde:

- 1) ¿Por qué venían los inmigrantes? ¿Por qué millones de personas desde principios del siglo XIX emigraron masivamente, dejando sus países de origen para establecerse en tierras lejanas?

Migraciones internas en Argentina.

- 2) Investiga y busca a lo largo de la historia de nuestro país ejemplos de cada uno de las siguientes migraciones (Desde dónde a dónde se producen, cuándo –época aproximada- y explicar las causas):
- 3) 1. **Campo – ciudad** (o éxodo rural): migración desde las zonas rurales hacia las ciudades, generalmente en busca de mejor calidad de vida.
- 4) 2. **Migraciones golondrinas**: es un tipo de migración estacional, por cortos periodos, en la época de las cosechas. También se da por trabajo en la actividad turística.
- 5) 3. **Pendular**: Movimiento interno diario entre ciudades cercanas por razones de trabajo o estudio.
- 6) 4. **Rururbanización**: es un fenómeno relativamente nuevo donde se urbanizan, debido a la mejora en las rutas y autopistas, zonas rurales cercanas a las ciudades formando barrios cerrados.

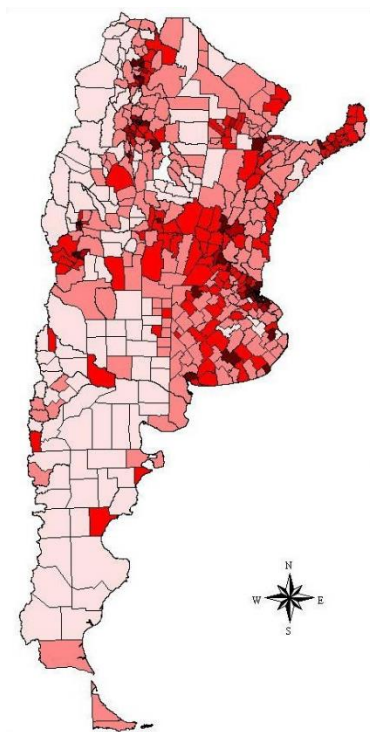
ACTIVIDAD D – Migraciones actuales

- 1- Investiga las características de los migrantes que llegan a nuestro país ahora y realiza una breve descripción máximo 10 renglones
- 2- ¿Qué tienen de similares las migraciones actuales con las del pasado? ¿Qué diferencias encuentras?
- 3- ¿Cómo crees que se siente una persona que ha emigrado de su país natal? ¿Cuáles son sus dificultades?
- 4- **Opinión personal:** ¿Cómo contribuyeron y contribuyen los inmigrantes en la formación de nuestro país? ¿Cómo crees que sienten las personas que tuvieron que irse de Argentina a otro país? ¿Cómo crees que sienten quienes son inmigrantes y por qué?

DISTRIBUCIÓN DE LA POBLACIÓN ARGENTINA

El mapa que se encuentra a continuación es el de distribución de población de Argentina expresado en “Densidad de la población”. Les recuerdo que la densidad es la cantidad de habitantes que viven en una unidad de superficie, generalmente se mide en kilómetros cuadrados.

Actividades



1. Observen el mapa de distribución de la población del país.
2. Completen un cuadro comparativo teniendo en cuenta los siguientes ítems:

Densidad (hab/km ²)	Ubicación (Región/prov.)	Principales características naturales	Principales caract. Econ/sociales
Muy alta (Más de 100)			
Media (entre 10 y 100)			
Baja (Menos de 10)			

3. ¿A qué conclusiones puedes llegar luego de observar la distribución de la población de esa manera? ¿Crees que es conveniente revertir esa situación? ¿Por qué?
4. Averigua o utiliza el mapa para localizar las 10 o 12 ciudades más importantes del país en cuanto a cantidad de habitantes.

ENVEJECIMIENTO DE LA POBLACIÓN

ACTIVIDAD

1. Cuando escuchas que “la población argentina es cada vez más vieja” ¿A qué piensas que se refiere? Responde según tu opinión esta pregunta.
2. Leer el artículo “Porqué la población argentina es cada vez más vieja”
3. Debatimos en clases.
 - a) ¿Cuáles son las causas que explican para vos ese envejecimiento?
 - b) ¿Es igual en todo el territorio? ¿Por qué?
 - c) ¿Cuáles son las dificultades que plantea el envejecimiento de la población?
 - d) ¿Puedes asociar la perspectiva de género con el envejecimiento de la población?

Por qué la población argentina es cada vez más vieja

De acuerdo a los especialistas, la caída de número de nacimientos en el país se acentúa cada vez más con el pasar de los años, a la vez que se genera un clima de maternidad insatisfecha y una población cada vez más envejecida.

El informe reveló que en 2015 la tasa de natalidad en la Argentina cayó a un promedio de 2,11 hijos por cada madre. Se trata de una caída del 62%, respecto al 3,39 promedio de 1978 y una peligrosa baja del 0,07 respecto de hace sólo dos años.

Como si fuera poco, la cifra cada vez se acerca más al 2,1 que representa la tasa de reemplazo, que se refiere a la tasa de fecundidad mínima que una población necesita para mantener su nivel demográfico en igualdad o crecimiento.

"Por el momento, se trata de una advertencia. Es mejor empezar a tratar el tema ahora y no esperar a convertirse en lo que es Europa, que están sufriendo mucho por la falta de nacimientos", explicó a Infobae la licenciada Analía Calero, líder de la investigación.

De persistir la tendencia, el país tendrá que comenzar a adaptarse a cumplir las necesidades mínimas de una población cada vez más envejecida. Además, se avicinarán cambios que podrán surgir a largo plazo en el mercado de trabajo, a causa de una nueva composición del capital humano y su productividad.

La doble insatisfacción

El caso de Argentina no escapa de una realidad decreciente que afronta el mundo en general. En los últimos 60 años, el promedio de hijos por cada madre en el planeta se redujo de 5,02 a 2,55.

El informe refleja dos realidades muy evidentes: la mayor caída se produjo en las clases sociales más desarrolladas, mientras que en las poblaciones más pobres la cifra permanece muy por encima del promedio.

"Uno de los principales focos que nos interesaba era el del sector de la clase media, que es un grupo que no se estudia demasiado. Vimos una dificultad enorme para poder hacer convivir la paternidad y la vida laboral", dijo Calero.

De todas las regiones del país, sólo hay cuatro zonas que tienen un promedio por debajo de la tasa de reemplazo: la Ciudad de Buenos Aires (1,57), la provincia de Buenos Aires, que concentra la mayor población del país (1,97), Córdoba (1,80) y Santa Fe (1,90). Y en la propia Capital, uno de los barrios más desarrollados, como Recoleta, promedia un hijo por madre, mientras que la Comuna 8 (compuesta por Villa Lugano, Villa Soldati y Villa Riachuelo) promedia 2,9.

En los últimos 60 años, la tasa de natalidad en el mundo cayó de 5,02 a 2,55 hijos por cada madre

Uno de los motivos de la nueva tendencia de natalidad se explica en la denominada "doble insatisfacción". Las mujeres de menores recursos tienen más hijos de los deseados por motivos educativos y un difícil acceso a una planificación familiar adecuada, mientras que las madres de sectores medios, más educadas y laboralmente activas, encuentran dificultades para poder conciliar una vida familiar con la profesional.

En esa clase media, la baja fecundidad también se explicó en una cada vez mayor difusión de los métodos anticonceptivos y en la dificultad para poder sostener económicamente familias numerosas.

"Al tratarse de dos sectores sociales con realidades tan diferentes, sería muy difícil emplear políticas generales para tratar el tema, habría que apostar a políticas específicas de cada población", analizó Calero para Infobae.

El peligro europeo

América Latina se perfila hacia un envejecimiento de la población, pero todavía dista mucho de regiones en las que la baja de la natalidad ya es un problema asumido. Europa es el caso.

En el Viejo Continente, las personas **mayores de 65 años** representan el **16% de la población** y **superan** en cantidad a los **menores de 15** (15%). **En España, el promedio de natalidad es de 1,32; en Alemania, 1,38 y en Italia, 1,43.**

El problema de la fecundidad llegó, de hecho, a las altas esferas políticas. El gobierno español lanzó en la última década, con el objetivo de **incentivar** los nacimientos, **un plan de ayuda de 2.000 euros por cada nacimiento en su país.**

El problema no llegó en Europa a situaciones dramáticas porque el nivel demográfico se equilibró gracias a los inmigrantes, especialmente latinos y africanos.

El futuro

El factor del envejecimiento de la población podrá acarrear problemas tan impensados como diversos.

El riesgo de ver incrementada la población pasiva respecto a la activa, obligará al Estado a mejorar el sostenimiento del sistema previsional y **las mayores demandas de salud y cuidado** de esa misma población envejecida.

además, se modificaría la estructura de la población productiva en el mercado y una maternidad tardía provocaría **una mayor carga para las mujeres**, que tendrán que duplicar su esfuerzo para el cuidado de sus hijos y **de sus padres ancianos**. Ya no podrían recibir tanta ayuda por parte de los abuelos de los niños.

"Dos soluciones que se podrían empezar a activar ahora son la de una implementación regular de

guarderías de calidad en lugares de trabajo

y la de revisar

las licencias por maternidad

y paternidad", señaló Calero. En la Argentina, la licencia por maternidad supone 90 días en el sector privado y 100 en el sector público; la de paternidad es de tres días en el privado y cinco en el público.